

ESTADO DO RIO GRANDE DO SUL  
PROCURADORIA-GERAL DO ESTADO

VI CONCURSO PÚBLICO PARA PROVIMENTO DE CARGOS  
DO QUADRO DE PESSOAL DOS SERVIÇOS AUXILIARES DA  
PROCURADORIA-GERAL DO  
ESTADO DO RIO GRANDE DO SUL

# ASSESSOR ARQUITETO

## INSTRUÇÕES

Leia atentamente e cumpra rigorosamente as instruções que seguem, pois elas são parte integrante da prova e normas que regem este Concurso Público.

1. Verifique se este caderno possui 14 páginas, contendo **50 questões, numeradas de 01 a 50, bem como uma questão discursiva**. Caso contrário, solicite ao fiscal da sala a substituição do mesmo.
2. Cada questão oferece 5 alternativas de respostas, representadas pelas letras **A, B, C, D e E**, sendo apenas uma delas a resposta correta. Assinale a grade de respostas com caneta tipo esferográfica **azul** ou **preta**.
3. O tempo para realização da prova é de 5 horas, incluindo o preenchimento da grade de respostas e da folha definitiva. O candidato só poderá retirar-se do recinto da prova após 2 horas de seu início. Os dois últimos candidatos deverão retirar-se da sala de prova ao mesmo tempo, assinando a ata.
4. O candidato não poderá efetuar qualquer tipo de consulta.
5. Nenhuma informação sobre as instruções e/ou conteúdo das questões será dada pelo fiscal, pois são parte integrante da prova.
6. No caderno de prova, o candidato poderá fazer anotações.
7. O gabarito e as notas serão divulgados no dia 09/04/2014, nos sítios [www.pge.rs.gov.br](http://www.pge.rs.gov.br) e [www.fundatec.org.br](http://www.fundatec.org.br).



## TEXTO 1

01 Sondar a base genética de certas características biológicas inflama a controvérsia, mas alguns  
 02 cientistas optam por cruzar a linha vermelha de qualquer maneira. Tendo crescido na cidade universitária de  
 03 Ames, Iowa, durante os anos 1970, Stephen Hsu vivia cercado pelos precoces filhos dos professores da  
 04 Universidade. Por volta de 2010, achou que a tecnologia de sequenciamento do DNA tinha finalmente  
 05 avançado o suficiente para ajudar a explicar \_\_\_\_\_ fazia aquelas crianças tão inteligentes. Com a ajuda  
 06 da gigante chinesa em sequenciamento, a BGI, de Shenzhen, ele planejou um dos maiores estudos desse  
 07 tipo, com o objetivo de sequenciar o DNA de 2.000 pessoas.

08 Hsu não tinha pensado em como a reação do público poderia ser negativa até que um dos  
 09 participantes do estudo, o psicólogo Geoffrey Miller, da Universidade de Nova York, fez algumas  
 10 observações inflamadas à imprensa. Miller previu \_\_\_\_\_, uma vez que o projeto identificasse genes da  
 11 inteligência, governos como o chinês poderiam começar a testar embriões para encontrar os mais  
 12 desejáveis. Hsu e seus colegas logo descobriram que o seu projeto, que mal havia começado, seria alvo de  
 13 críticas ferozes.

14 Há dúvidas científicas sobre o valor do trabalho de Hsu. Tal como acontece com outros campos  
 15 controversos da genética comportamental, a influência da hereditariedade na inteligência provavelmente  
 16 atua através de uma miríade de genes que exercem cada um apenas um pequeno efeito. Mas isso era  
 17 apenas uma parte da razão para a indignação. Durante décadas, os cientistas têm cuidadosamente trilhado,  
 18 ou evitado trilhar, determinadas áreas do estudo genético por motivos sociais ou políticos. Na raiz desse  
 19 cuidado, está a ideia generalizada, mas ultrapassada, \_\_\_\_\_ genética é destino. Muitos ainda acreditam  
 20 que é possível prever, a partir dos genes, como serão as características e os comportamentos complexos  
 21 de um indivíduo, seja qual for o meio em que vive. O público e muitos cientistas continuam a interpretar mal  
 22 as descobertas modernas sobre a base genética do organismo e de seu comportamento – porque temem  
 23 que esse trabalho leve a uma nova era da eugenia e de discriminação contra grupos já marginalizados.

24 Mas tentar prevenir essas consequências traçando uma linha vermelha em torno de certas áreas de  
 25 estudo subverte a ciência, diz Christopher Chabris, do Union College, Nova York. O financiamento para  
 26 estudo nessas áreas pode secar, dissuadindo os pesquisadores de investigar problemas cientificamente  
 27 promissores. “Toda vez que há um tabu, ou uma norma contra um estudo que não tenha como base senão  
 28 boas razões científicas, isso distorce as prioridades dos pesquisadores e pode prejudicar a compreensão de  
 29 certas questões importantes”, diz ele.

Traduzido e adaptado de: Erika Hayden, “Ética: genética tabu”,  
 revista Nature online, 02/10/2013. (424 palavras)

**QUESTÃO 01** – Assinale a alternativa que preenche correta e respectivamente as lacunas das linhas 05, 10 e 19.

- A) o que – que – de que
- B) sobre que – de que – de que
- C) o que – que – que
- D) o que – de que – que
- E) sobre que – que – de que

**QUESTÃO 02** – Assinale a alternativa em que a expressão indicada está INCORRETAMENTE associada àquilo a que se refere.

- A) **aquelas crianças** (l.05) – os precoces filhos dos professores.
- B) **(d)esse tipo** (l.06-07) – estudo de sequenciamento genético.
- C) **isso** (l.16) – o modo de ação da hereditariedade sobre a inteligência (por meio de uma miríade de genes, cada um com um pequeno efeito).
- D) **(d)esse cuidado** (l.18-19) – a precaução dos cientistas em trilhar, ou evitar, certas áreas de estudo por motivos sociais ou políticos.
- E) **essas consequências** (l.24) – as más interpretações das descobertas modernas sobre a base genética do organismo e de seu comportamento.

**QUESTÃO 03** – Qual das afirmativas abaixo NÃO está de acordo com o texto?

- A) Stephen Hsu decidiu estudar a genética da inteligência quando concluiu que a tecnologia de sequenciamento genético tinha avançado o suficiente para isso.
- B) Houve oposição ao estudo de Hsu porque suas descobertas poderiam servir de instrumento a governos que quisessem selecionar geneticamente sua população.
- C) A sociedade e muitos cientistas interpretam mal as descobertas da genética do comportamento e da inteligência: ainda acreditam que genética é destino.
- D) Há consenso de que os genes da inteligência são poucos e cada um possui um efeito decisivo no desenvolvimento cognitivo do indivíduo; por isso, a inteligência de uma pessoa é totalmente determinada por sua genética.
- E) A sociedade e muitos cientistas temem que as descobertas da genética do comportamento e da inteligência sejam usadas em políticas discriminatórias.

**QUESTÃO 04** – Assinale a alternativa em que o sentido proposto para a palavra indicada está de acordo com o texto.

- A) **precoces** (l.03) – prematuros.
- B) **desejáveis** (l.12) – desejados por suas famílias.
- C) **miríade** (l.16) – pequena quantidade.
- D) **marginalizados** (l.23) – geneticamente pouco favorecidos.
- E) **subverte** (l.25) – desvirtua.

**QUESTÃO 05** – Considere as seguintes afirmações:

- I. Há quem defenda que as possíveis consequências políticas das descobertas da genética contemporânea não devem impedir a realização desses estudos, pois o conhecimento científico pode ser valioso, apesar de seus riscos.
- II. Os resultados do experimento desenvolvido por Stephen Hsu confirmaram resultados já reconhecidos pela comunidade científica.
- III. Cientificamente falando, o que se sabe sobre a genética do comportamento e da inteligência permitem concluir que se pode ter certeza de que a seleção de embriões realmente levaria a indivíduos mais inteligentes.

Quais são autorizadas pela interpretação do texto?

- A) Apenas I.
- B) Apenas II.
- C) Apenas III.
- D) Apenas I e II.
- E) I, II e III.

**QUESTÃO 06** – Considere as seguintes propostas de inserção de conetivos no texto (com as devidas alterações entre maiúsculas e minúsculas):

- I. Inserção de **Assim** seguido de vírgula imediatamente antes de **Com a ajuda** (l.05).
- II. Inserção de **Por isso** seguido de vírgula imediatamente antes de **Muitos ainda acreditam** (l.19).
- III. Inserção de **pois** imediatamente antes de **O financiamento** (l.25), e substituição do ponto final depois de **Nova York** (l.25) por vírgula.

Quais são corretas?

- A) Apenas I.
- B) Apenas II.
- C) Apenas III.
- D) Apenas I e III.
- E) I, II e III.

**QUESTÃO 07** – Assinale a alternativa que apresenta as substituições mais adequadas, de acordo com o texto, para os tempos verbais encontrados, respectivamente, em: **havia começado** (l.12); **têm ... trilhado, ou evitado trilhar** (l.17-18) e **subverte** (l.25).

- A) começava – vêm ... trilhando, ou evitando trilhar – está subvertendo
- B) começara – vêm ... trilhando, ou evitando trilhar – pode subverter
- C) começava – estavam ... trilhando, ou evitando trilhar – pode subverter
- D) começara – estavam ... trilhando, ou evitando trilhar – pode subverter
- E) começara – estavam ... trilhando, ou evitando trilhar – está subvertendo

**QUESTÃO 08** – Considere os seguintes conjuntos de palavras retiradas do texto:

- I. **controvérsia** (l.01), **possível** (l.20), **indivíduo** (l.21).
- II. **genética** (l.01), **psicólogo** (l.09), **décadas** (l.17).
- III. **até** (l.08), **chinês** (l.11), **Há** (l.14).

Em quais conjuntos todas as palavras são acentuadas em virtude da mesma regra ortográfica?

- A) Apenas I.
- B) Apenas II.
- C) Apenas III.
- D) Apenas I e II.
- E) Apenas II e III.

## TEXTO 2

01 Aconteceu-me ontem uma coisa realmente extraordinária. Não tendo conseguido acomodar-me em  
02 casa à noite, desci para a Avenida, segundo hábito antigo. Ela já estava repleta de carnavalescos, que  
03 aproveitavam, como podiam, sua terceira noite.

04 Pus-me a examinar colombinas fáceis, do lado da Praça Sete, quando me vi inesperadamente  
05 envolvido no fluxo de um cordão. Procurei desvencilhar-me, como pude, mas a onda humana vinha imensa,  
06 crescendo em torno de mim. Entreguei-me, então, \_\_\_\_\_ humanidade que me pareceu mais cansada  
07 que alegre. Os sambas eram tristes e homens pingavam suor. Um máscara-de-macaco deu-me o braço e  
08 convidou-me a cantar. Respondi-lhe que, em rapaz, consumi a garganta em serenatas e que esta, já agora,  
09 não ajudava. Imagino a figura que fiz, de colarinho alto e pince-nez, no meio daquela roda alegre... Os  
10 foliões se engraçaram comigo. E tanto fizeram que, sem perceber o disparate, me pus \_\_\_ entoar velha  
11 canção de Vila Caraíbas.

12 Bebendo aqui, bebendo ali, acabei presa de grande excitação, correndo atrás de choros, de blocos  
13 e cordões. Não sei como, envolvido num grupo, entrei no salão de um clube, acompanhando a massa na  
14 sua liturgia pagã. A certo momento, alguém enlaçou meu braço, cantando: “Segura, meu bem, segura na  
15 mão, não deixes partir o cordão...” O braço tinha uma branca e fina mão. Jamais esquecerei: uma branca e  
16 fina mão. Olhei para o lado: a dona da mão era uma branca e doce donzela. Foi uma visão extraordinária.  
17 Pareceu-me que descera até mim a casta Arabela, a donzela que vivia na torre escura de um castelo, que  
18 entoava doridas melodias e que morreu de amor...

19 Efeito da excitação em que me achava, senti-me fora do tempo e do espaço, e meus olhos só  
20 percebiam a doce visão. Era ela, Arabela. Como estava bela! A música lasciva se tornou distante, e as  
21 vozes chegavam a mim, lentas e desconexas. Em meio dos corpos exaustos, a incorpórea e casta Arabela.  
22 Meu corpo se desfazia em harmonias inseguras. Não me lembro quanto tempo durou o encantamento e só  
23 vagamente me recordo de que, em um momento impossível de localizar, no tempo e no espaço, a mão me  
24 fugiu.

25 O mito da donzela Arabela tem enchido minha vida. Esse absurdo romantismo de Vila Caraíbas tem  
26 uma força que supera \_\_\_ zombarias do Belmiro sofisticado e faz crescer, desmesuradamente, em mim, um  
27 Belmiro patético e obscuro. E sobrevivem os mitos, que são o pão dos homens.

Cyro dos Anjos, “O mito da donzela Arabela”, extraído de O amanuense Belmiro, Editora José Olympio – Rio de Janeiro, 1971, pág. 19. (409 palavras)

**QUESTÃO 09** – Assinale a alternativa que preenche correta e respectivamente as lacunas das linhas 06, 10 e 26.

- A) aquela – a – às
- B) àquela – a – as
- C) àquela – à – às
- D) àquela – à – as
- E) aquela – à – as

**QUESTÃO 10** – Em vários trechos do texto, Cyro dos Anjos recorre a expressões que revelam uma percepção desencantada, contrariada, pessimista, dos eventos do episódio. Assinale a alternativa em que NÃO há sinal desses elementos.

- A) “me vi inesperadamente envolvido no fluxo de um cordão. Procurei desvencilhar-me” (l.04-05).
- B) “humanidade que me pareceu mais cansada que alegre. Os sambas eram tristes e homens pingavam suor” (l.06-07).
- C) “O braço tinha uma branca e fina mão. Jamais esquecerei: uma branca e fina mão” (l.15-16).
- D) “Em meio dos corpos exaustos, a incorpórea e casta Arabela. Meu corpo se desfazia em harmonias inseguras” (l.21-22).
- E) “O mito da donzela Arabela tem enchido minha vida” (l.25).

**QUESTÃO 11** – Qual das afirmativas abaixo NÃO está de acordo com o texto?

- A) Belmiro, o narrador, desceu para a Avenida não porque deseja aproveitar a terceira noite de carnaval, mas porque não conseguiu acomodar-se em casa.
- B) Belmiro não pretendia juntar-se ao fluxo dos foliões, mas, envolvido pela multidão, deixou-se levar por “aquela humanidade mais cansada que alegre”.
- C) Guiado por um grupo de foliões, Belmiro acabou em um salão de um clube e, em meio à festa, foi enlaçado por uma branca e doce donzela, que cantava: “Segura, meu bem, segura na mão...”.
- D) A visão extraordinária da donzela – sua branca e fina mão, sua doçura –, estimulou em Belmiro a fantasia de que a moça era Arabela, personagem de uma triste história de amor.
- E) Sob o encantamento de sua Arabela, Belmiro dedicou-se intensa e alegremente à festa, ficando surpreso quando, subitamente, a donzela o abandonou.

**QUESTÃO 12** – Considere as seguintes assertivas:

- I. A participação de Belmiro, o narrador, na maior parte dos eventos do episódio, é deliberada e intencional, e não passiva e acidental.
- II. No momento central do episódio, quando dança com sua Arabela, Belmiro apresenta sinais simultâneos de evasão e de consciência da realidade.
- III. “O mito de Arabela” de Belmiro é a crença na felicidade e no amor, que a razão e “as zombarias do Belmiro sofisticado” combatem, mas não conseguem vencer.

Quais são autorizadas pela interpretação do texto?

- A) Apenas I.
- B) Apenas II.
- C) Apenas III.
- D) Apenas II e III.
- E) I, II e III.

**QUESTÃO 13** – Considere as seguintes propostas de alteração de ordem de segmentos do texto (com os devidos ajustes de maiúsculas e minúsculas e de pontuação onde necessário):

- I. Deslocamento de **segundo hábito antigo** (I.02), entre vírgulas, para imediatamente depois de **Não tendo conseguido** (I.01).
- II. Deslocamento de **Bebendo aqui, bebendo ali**, (I.12), precedido de vírgula, para imediatamente depois de **acabei presa de grande excitação** (I.12).
- III. Deslocamento de **desmesuradamente** (I.26), entre vírgulas, para imediatamente depois de **em mim** (I.26).

Quais conservam o sentido do trecho original no texto?

- A) Apenas I.
- B) Apenas II.
- C) Apenas III.
- D) Apenas I e II.
- E) Apenas I e III.

**QUESTÃO 14** – Assinale a alternativa em que se propõe uma alteração dos sinais de pontuação do texto que é correta e adequada ao sentido do texto.

- A) Substituição do ponto-final da linha 01 por ponto-e-vírgula.
- B) Substituição do ponto-final da linha 08 por dois-pontos.
- C) Eliminação do ponto-final da linha 10.
- D) Eliminação da vírgula entre **como** e **envolvido**, na linha 13.
- E) Eliminação dos dois-pontos na linha 15.

**QUESTÃO 15** – Assinale a alternativa em que o pronome átono **me** é objeto direto do verbo que o rege.

- A) **Aconteceu-me** (I.01).
- B) **convidou-me** (I.08).
- C) **Pareceu-me** (I.17).
- D) **me lembro** (I.22).
- E) **me fugiu** (I.23-24).

**QUESTÃO 16** – Considere as seguintes assertivas sobre a reescrita de trechos do texto:

- I. A substituição de **me pareceu** (I.06) por **se mostrava** não exigiria outras alterações no período.
- II. A substituição de **me achava** (I.19) por **me via invadido** exigiria a alteração de **em que** (I.19) para **de que**.
- III. A substituição de **são** (I.27) por **se faz** não exigiria outras alterações no período.

Quais são corretas gramaticalmente?

- A) Apenas I.
- B) Apenas II.
- C) Apenas III.
- D) Apenas I e II.
- E) Apenas I e III.

#### TÓPICOS DE LEGISLAÇÃO

**QUESTÃO 17** – Considerando as disposições da Constituição Federal de 88, é correto afirmar que:

- A) O prazo de validade do concurso público será sempre de dois anos, prorrogável uma vez, por igual período.
- B) Os vencimentos dos cargos do Poder Legislativo e do Poder Judiciário poderão ser superiores aos pagos pelo Poder Executivo.
- C) Os acréscimos pecuniários percebidos por servidor público, desde que não tenham o mesmo título ou idêntico fundamento, poderão ser computados e acumulados, para fins de concessão de acréscimos ulteriores.
- D) A proibição de acumulação remunerada de cargos públicos estende-se a empregos e a funções e abrange autarquias, fundações, empresas públicas, sociedades de economia mista, suas subsidiárias, e sociedades controladas, direta ou indiretamente, pelo poder público.
- E) As pessoas jurídicas de direito público e as de direito privado prestadoras de serviços públicos responderão pelos danos que seus agentes, nessa qualidade, causarem a terceiros, assegurado o direito de regresso contra o responsável exclusivamente no caso de dolo.

**QUESTÃO 18** – Assinale a alternativa que NÃO contém um dos direitos dos trabalhadores urbanos e rurais estendidos aos servidores ocupantes de cargo público, de acordo com a Constituição Federal.

- A) Remuneração do trabalho noturno superior à do diurno.
- B) Jornada de seis horas para o trabalho realizado em turnos ininterruptos de revezamento, salvo negociação coletiva.
- C) Repouso semanal remunerado, preferencialmente aos domingos.
- D) Garantia de salário, nunca inferior ao mínimo, para os que percebem remuneração variável.
- E) Salário-família pago em razão do dependente do trabalhador de baixa renda nos termos da lei.

**QUESTÃO 19** – Considerando as disposições da Constituição Estadual, é correto afirmar que:

- A) As obrigações pecuniárias dos órgãos da administração direta e indireta para com os seus servidores ativos e inativos ou pensionistas, não cumpridas até o último dia do mês da aquisição do direito, deverão ser liquidadas com valores atualizados pelos índices oficiais de inflação.
- B) Legitimidade, motivação, economicidade, participação e proporcionalidade constituem princípios explícitos a serem observados pela administração pública direta e indireta de qualquer dos Poderes do Estado e dos Municípios.
- C) Serão publicadas no Diário Oficial do Estado as conclusões de todas as sindicâncias e auditorias instaladas em órgãos da administração direta e indireta.
- D) Os cargos em comissão não podem ser ocupados por cônjuges ou companheiros e parentes, consanguíneos, afins ou por adoção, até o segundo grau, dos Desembargadores e Juizes, no âmbito do Poder Judiciário.
- E) Depende exclusivamente de lei específica, mediante aprovação por maioria absoluta dos membros da Assembleia Legislativa, a alienação do controle acionário de sociedade de economia mista.

**QUESTÃO 20** – Considerando as disposições da Constituição Estadual sobre a Advocacia-Geral do Estado, é INCORRETO afirmar que:

- A) Compete à Procuradoria-Geral do Estado representar os interesses da administração pública estadual perante os Tribunais de Contas do Estado e da União.
- B) Aos Procuradores do Estado é vedado o exercício da advocacia fora das atribuições institucionais, ressalvados os casos de atuação em causa própria.
- C) A Procuradoria-Geral do Estado será chefiada pelo Procurador-Geral do Estado, com prerrogativas de Secretário de Estado, e o cargo será provido em comissão, pelo Governador, devendo a escolha recair em membro da carreira.
- D) O pessoal dos serviços auxiliares da Procuradoria-Geral do Estado será organizado em carreira, com quadro próprio, sujeito ao regime estatutário e recrutado exclusivamente por concurso público de provas ou de provas e títulos.
- E) A Advocacia do Estado é atividade inerente ao regime de legalidade na administração pública e será organizada, mediante lei complementar, em regime jurídico especial, sob a forma de sistema, tendo como órgão central a Procuradoria-Geral do Estado, vinculada diretamente ao Governador do Estado e integrante de seu Gabinete.

**QUESTÃO 21** – Considerando as disposições da Lei Complementar Estadual nº 10.098/94, é correto afirmar que:

- A) Posse é a aceitação expressa do cargo, formalizada com a assinatura do termo no prazo de 30 (trinta) dias, a contar da nomeação, prorrogável a pedido do interessado.
- B) Disciplina, eficiência, responsabilidade, produtividade e assiduidade constituem requisitos passíveis de apuração durante o estágio probatório do servidor nomeado em caráter efetivo, os quais não poderão ser desdobrados em outros.
- C) Por necessidade imperiosa de serviço, o servidor poderá ser convocado para cumprir serviço extraordinário, desde que devidamente autorizado pelo Secretário de Estado titular da respectiva Pasta.
- D) Exoneração, demissão, readaptação, aposentadoria, disponibilidade, recondução e falecimento são hipóteses de vacância do cargo.
- E) Redistribuição é o deslocamento do servidor com o respectivo cargo, de um quadro de pessoal ou entidade para outro do mesmo Poder, cujos planos de cargos e vencimentos sejam idênticos.

**QUESTÃO 22** – Considerando as disposições da Lei Complementar Estadual nº 10.098/94, é INCORRETO afirmar que

- A) As reposições e indenizações ao erário serão descontadas em parcelas mensais não excedentes à quinta parte da remuneração ou provento.
- B) Por triênio de efetivo exercício no serviço público, ao servidor será concedido automaticamente um acréscimo de 5% (cinco por cento) ou de 3% (três por cento), denominado avanço, calculado na forma da lei.
- C) A gratificação natalina corresponderá a 1/12 (um doze avos) da remuneração a que fizer jus o servidor, no mês de dezembro, por mês de efetivo exercício, considerando-se as frações iguais ou superiores a 15 (quinze) dias como mês integral.
- D) Nos casos de licença para tratamento da própria saúde ou de pessoa da família, com remuneração, e de moléstia, somente serão computados, como de efetivo exercício, para o efeito de concessão de licença-prêmio por assiduidade, os afastamentos do serviço por um período máximo de 3 (três) meses, para tratamento de saúde do servidor, de 2 (dois) meses, por motivo de doença em pessoa de sua família, e de 20 (vinte) dias, no caso de moléstia do servidor, tudo por quinquênio de serviço público prestado ao Estado.
- E) Decorridos 30 (trinta) dias da data em que tiver sido protocolado o requerimento da aposentadoria, o servidor será considerado em licença especial remunerada, podendo afastar-se do exercício de suas atividades, salvo se antes tiver sido cientificado do indeferimento do pedido.

**QUESTÃO 23** – Considerando as disposições da Lei Complementar Estadual nº 10.098/94, é correto afirmar que:

- A) Na aplicação das penas disciplinares, serão consideradas a natureza e a gravidade da infração e os danos delas resultantes para o serviço público, as circunstâncias agravantes ou atenuantes e os antecedentes funcionais.
- B) A pena de repreensão será aplicada verbalmente, na falta do cumprimento do dever funcional ou quando ocorrer procedimento público inconveniente.
- C) Quando houver conveniência para o serviço, a pena de suspensão poderá ser convertida em multa, que acarretará prejuízo na contagem do tempo de serviço exclusivamente para fins de concessão de licença-prêmio.
- D) Atendendo à gravidade da falta, a demissão poderá ser aplicada com a nota “a bem do serviço público”, a qual constará no ato de demissão fundamentado na prática de corrupção passiva nos termos da lei penal.
- E) O prazo de prescrição começa a fluir a partir da data do conhecimento do fato por superior hierárquico e fica suspenso a contar da instauração do processo administrativo-disciplinar.

**QUESTÃO 24** – Assinale a alternativa que NÃO contém uma das funções institucionais da Advocacia de Estado, de acordo com a Lei Complementar Estadual nº 11.742/02.

- A) Zelar pelo cumprimento da Constituição da República Federativa do Brasil e da Constituição do Estado do Rio Grande do Sul, bem como pelos preceitos fundamentais delas decorrentes.
- B) Promover a ação de inconstitucionalidade ou representação para fins de intervenção da União e dos Estados.
- C) Promover ações civis públicas para a proteção do patrimônio público e social, do meio ambiente, das finanças públicas, do consumidor e de outros interesses difusos e coletivos.
- D) Contribuir para o aperfeiçoamento das instituições jurídicas nacionais e estaduais, bem como dos serviços públicos estaduais e municipais.
- E) Prestar assistência jurídica aos Municípios, a título complementar ou supletivo.

**QUESTÃO 25** – Considerando as disposições da Lei Complementar Estadual nº 11.742/02, é correto afirmar que:

- A) A Procuradoria-Geral do Estado, dotada de autonomia administrativa, funcional e financeira, elaborará sua proposta orçamentária e a encaminhará ao Governador do Estado.
- B) As funções de chefia, assessoramento e direção próprias da Procuradoria-Geral do Estado serão providas por ato do Governador, mediante indicação do Procurador-Geral.
- C) São órgãos de direção superior, na estrutura da Procuradoria-Geral do Estado, o Gabinete, o Conselho Superior e a Corregedoria-Geral.
- D) O exercício da representação judicial das fundações de direito público, quando convier ao interesse público, será implementado mediante ato do Procurador-Geral do Estado, ouvido o Conselho Superior.
- E) O Sistema de Advocacia de Estado é integrado por apenas três órgãos: a Procuradoria-Geral do Estado, a Coordenação das Assessorias Jurídicas da Administração Pública Direta e Indireta e os Agentes Setoriais.

**QUESTÃO 26** – O Estado assegurará a assistência à família na pessoa de cada um dos que a integram, criando mecanismos para coibir a violência no âmbito de suas relações (Constituição Federal, art. 226, § 8º). Visando a coibir a violência doméstica e familiar contra a mulher, editou-se a Lei Federal nº 11.340/06 (Lei “Maria da Penha”). Considerando as disposições dessa Lei, é correto afirmar que:

- A) A União, o Distrito Federal, os Estados e os Municípios deverão criar e promover, no limite das respectivas competências, centros de atendimento integral e multidisciplinar para mulheres e respectivos dependentes em situação de violência doméstica e familiar.
- B) No atendimento à mulher em situação de violência doméstica e familiar, a autoridade policial deverá, dentre outras providências, determinar a separação de corpos.
- C) O Ministério Público sempre intervirá nas causas cíveis e criminais decorrentes da violência doméstica e familiar contra a mulher.
- D) A ofendida será notificada dos atos processuais relativos ao agressor, especialmente dos pertinentes ao ingresso e à saída da prisão, desde que não haja intimação do advogado constituído ou do defensor público.
- E) É vedada a aplicação, nos casos de violência doméstica e familiar contra a mulher, de penas de cesta básica ou outras de prestação pecuniária, bem como a substituição de pena que implique o pagamento isolado de multa.

### RACIOCÍNIO LÓGICO

**QUESTÃO 27** – Dadas as sentenças:

- I. Hoje choveu em Porto Alegre-RS.
- II. Quando chegam visitas na minha casa, todos os cachorros latem.
- III. Vire à esquerda e siga em frente.
- IV. Que dia lindo!
- V. Quando será a próxima prova de Raciocínio Lógico?

É correto afirmar que:

- A) A sentença I é uma proposição lógica ou fechada.
- B) A sentença II é uma proposição condicional.
- C) A sentença III é uma proposição conjuntiva.
- D) A sentença IV é uma proposição exclamativa.
- E) A sentença V é uma proposição interrogativa.

**QUESTÃO 28** – Dada a proposição composta "Se Antônio passar no concurso, ele ganhará uma viagem a Nova York.", identifique, dentre as alternativas a seguir, aquela que a torna falsa.

- A) "Antônio passou no concurso" é falso.
- B) "Antônio passou no concurso" é verdade.
- C) "Antônio passou no concurso é verdade", e "Antônio ganhou uma viagem a Nova York" é falso.
- D) "Antônio ganhou uma viagem a Nova York." é verdade e "Antonio não passou no concurso" é verdade.
- E) "Antônio passou no concurso" é falso, e "Antônio ganhou uma viagem a Nova York." é falso.

**QUESTÃO 29** – O departamento administrativo de uma empresa é composto por 6 homens e 8 mulheres. Uma comissão será formada com esses funcionários para tratar de questões salariais com o patrão. Quantas comissões distintas, com um homem e duas mulheres, é possível formar?

- A) 24.
- B) 34.
- C) 168.
- D) 192.
- E) 384.



Analise a seguinte Tabela-Verdade.

	I	II	III	IV	V	VI
	p	q	$p \leftrightarrow q$	$p \vee q$	$\sim(p \leftrightarrow q)$	$\sim(p \vee q)$
1	V	V	V	F	F	V
2	V	F	F	V	V	F
3	F	V	F	V	V	F
4	F	F	V	F	F	V

**QUESTÃO 30** – Tomando como base a Tabela-Verdade acima, estabeleça uma negação para a proposição: “João estuda se, e somente se não faz calor.”

- A) “João não estuda se, e somente se faz calor.”
- B) “Se João não estuda, não faz calor.”
- C) “João não estuda e não faz calor.”
- D) “João estuda e não faz calor, e João não estuda e faz calor.”
- E) “Ou João estuda, ou não faz calor.”

#### CONHECIMENTOS ESPECÍFICOS

**QUESTÃO 31** – Assinale a alternativa INCORRETA, levando-se em conta a NBR 9050/2004 (Acessibilidade a edificações, mobiliário, espaços e equipamentos urbanos).

- A) As medidas necessárias para a manobra de uma cadeira de rodas sem deslocamento a uma rotação de  $180^\circ$  é 1,50m x 1,20m.
- B) As medidas necessárias para a manobra de uma cadeira de rodas com deslocamento a uma rotação de  $180^\circ$  é 1,90m x 1,50m.
- C) Para manobras sem deslocamento à rotação de  $360^\circ$ , utiliza-se o mesmo parâmetro de medida para manobras com deslocamento à rotação de  $180^\circ$ .
- D) A largura mínima de uma passagem para deslocamento em linha reta com duas pessoas em cadeiras de roda andando lado a lado é de 1,50m.
- E) Considera-se o módulo de referência (M.R.) a projeção de 0,80 m por 1,20 m no piso, ocupada por uma pessoa utilizando cadeira de rodas.

**QUESTÃO 32** – A alternativa correta que destaca o(s) dado(s) antropométrico(s) de medidas corporais, cuja informação possibilita estabelecer as dimensões de elementos (gaveta ou prateleira) situados diretamente sob superfícies de trabalho, tais como, balcões, escrivaninhas e mesas de reuniões é:

- A) Espaço livre para as coxas.
- B) Largura do quadril e alcance lateral do braço.
- C) Comprimento nádega-sulco poplíteo.
- D) Altura de descanso do cotovelo.
- E) Altura do cotovelo e altura do joelho.

**QUESTÃO 33** – Conforme a NBR 13966/2008 (Móveis para escritório - Mesas - Classificação e características físicas dimensionais e requisitos e métodos de ensaio), a mesa de trabalho, que se caracteriza por ter função principal em um posto de trabalho, sendo normalmente utilizada por uma só pessoa, deve possuir dimensões e características compatíveis com a produção e execução de tarefas manuais ou informatizadas. Assinale as medidas em milímetros (mm) que esta norma determina para a medida do piso à face superior do tampo da mesa (distância vertical) e para a medida entre as bordas frontal e posterior do tampo da mesa (distância horizontal), respectivamente:

- A) 720 e 600.
- B) 750 e 620.
- C) 720 e 620.
- D) 750 e 600.
- E) 720 e 700.

**QUESTÃO 34** – Fundações são elementos estruturais destinados a transmitir ao terreno as cargas de uma estrutura. Analise as seguintes atividades sobre fiscalização de obras.

- II. Requerer a Anotação de Responsabilidade Técnica (ART) do responsável pela execução, caso esta etapa da obra esteja sendo executada por empresa especializada subcontratada.
- III. Solicitar ao contratado a elaboração de relatórios de acompanhamento de execução de tubulões, nos quais constem locação, dimensões, cotas de fundo e arrasamento e outros dados pertinentes.
- IV. Realizar o controle tecnológico do concreto empregado.
- V. Verificar a inexistência de trincas ou fissuras prejudiciais ao desempenho quanto às estacas pré-moldadas fabricadas fora do canteiro de obras.

Quais desses aspectos referem-se exclusivamente à fiscalização de fundações profundas?

- A) Apenas I e IV.
- B) Apenas I e III.
- C) Apenas II e IV.
- D) Apenas II e III.
- E) I, II, III e IV.

**QUESTÃO 35** – Na etapa executiva de um projeto de arquitetura, concernente à colocação de esquadrias, a fiscalização deverá verificar os seguintes aspectos nas esquadrias de madeira, EXCETO:

- A) A proteção das ferragens durante a execução da pintura.
- B) A colocação das folhas das portas somente após a conclusão da execução dos pisos.
- C) O funcionamento das ferragens e o perfeito assentamento e funcionamento das esquadrias.
- D) A localização, posição, dimensões, quantidades e sentido de aberturas, de acordo com o projeto e com os detalhes construtivos nele indicados.
- E) A correção das arestas das folhas das portas com plaina se as dobradiças estiverem desalinhadas e fora de prumo.

**QUESTÃO 36** – Assinale a alternativa que corresponde à classificação da NBR 9077/2001 (Saídas de emergência em edifícios) para prédios com estrutura resistente ao fogo e isolamento entre pavimentos, a exemplo de prédios com concreto armado calculado para resistir ao fogo, com divisórias incombustíveis, sem divisórias leves, com parapeitos de alvenaria sob as janelas ou com abas prolongando os entrepisos.

- A) Edificações sem resistência ao fogo.
- B) Edificações em que a propagação do fogo é fácil.
- C) Edificações com mediana resistência ao fogo.
- D) Edificações em que a propagação do fogo é difícil.
- E) Edificações sem propagação de fogo.

**QUESTÃO 37** – Analise os seguintes casos em que é obrigatório o uso de rampas em edificações, segundo a NBR 9077/2001 (Saídas de emergência em edifícios).

- I. Na descarga e acesso de elevadores de emergência.
- II. Sempre que a altura a vencer for inferior a 0,48 m, já que são vedados lanços de escadas com menos de três degraus.
- III. Quando a altura a ser vencida não permitir o dimensionamento equilibrado dos degraus de uma escada.
- IV. Quando os pavimentos não tiverem saída em nível para o espaço livre exterior.

Quais estão corretos?

- A) Apenas I.
- B) Apenas IV.
- C) Apenas II e III.
- D) Apenas III e IV.
- E) Apenas I, II e III.

**QUESTÃO 38** – Conforme a NBR 8196/1999 (Desenho técnico, Emprego de escalas), a escala a ser escolhida para um desenho depende da complexidade do objeto ou elemento a ser representado e da finalidade da representação. Em se tratando de escalas, assinale a alternativa INCORRETA.

- A) Escalas na razão 1:2, 1:5 e 1:10 são escalas de redução.
- B) Escalas na razão 2:1, 5:1 e 10:1 são escalas de ampliação.
- C) Para se trabalhar com escala de ampliação, basta dividir o valor da medida indicada no desenho do objeto pelo valor numérico da escala.
- D) A escala e o tamanho de um objeto ou elemento são parâmetros para a escolha do formato da folha de desenho.
- E) Quando for necessário o uso de mais de uma escala na folha de desenho, além da escala geral, estas devem estar indicadas junto à identificação do detalhe ou vista a que se referem e, na legenda, deve constar a escala geral.

**QUESTÃO 39** – Assinale a alternativa que relaciona corretamente uso de escala com o mobiliário.

- A) A inserção de calungas em desenhos de interior não contribui para que o observador perceba a escala do recinto e do mobiliário nele contido.
- B) A escala natural ou ampliada de um desenho de detalhamento de mobiliário é um recurso dispensável para representar as sutilezas da proposta do projeto e para explicar como os materiais se integram de maneira adequada ao conceito.
- C) A escala 1:2 é a mais utilizada para projeto de mobiliário quando este prescinde de detalhes para sua compreensão.
- D) Desenhos em escala de 1:20 são próprios para elucidar o mecanismo de fixação do assento de uma cadeira com seus pés e encosto.
- E) Desenhos em escala de 1:10 são ideais para a compreensão do projeto de uma *chaise longue* em vistas e plantas. Para representar detalhes em corte e detalhes em vista, as escalas 1:5, 1:2 e 1:1 são as mais utilizadas.

**QUESTÃO 40** – As três faces do objeto são montadas sobre três eixos que partem de um vértice comum, sendo que uma das faces é representada de frente, em verdadeira grandeza, isto é, o objeto tem uma das faces paralela ao plano de projeção. As outras faces se projetam obliquamente sob um determinado eixo e sofrem com isso uma deformação em perspectiva. Esse texto refere-se à definição da perspectiva

- A) em um ponto de fuga.
- B) em dois pontos de fuga.
- C) axonométrica.
- D) isométrica.
- E) cavaleira.

**QUESTÃO 41** – O quantitativo de tomadas pode ser previsto ainda na fase de estudos do projeto de arquitetura, tendo como referência a norma NBR 5410/2004 (Instalações Elétricas de Baixa Tensão). Analise os seguintes critérios quanto ao número mínimo de pontos de tomada em função da destinação do local e dos equipamentos elétricos utilizados em locais de habitação, segundo esta norma:

- I. Um ponto para cada cômodo ou dependência, se a área for superior a 2,25m<sup>2</sup> e igual ou inferior a 6m<sup>2</sup>.
- II. Um ponto para cada 3,5m (ou fração) de perímetro em salas e dormitórios, espaçados tão uniformemente quanto possível, exceto em banheiros, onde apenas um ponto perto do lavatório é obrigatório.
- III. Um ponto para cada 5m (ou fração) de perímetro em cozinhas, copas, copas-cozinhas, áreas de serviço, cozinha-área de serviço, lavanderias e locais análogos, sendo que, acima de cada bancada com largura igual ou superior a 30cm, deve ser previsto um ponto.
- IV. Um ponto em varandas, que pode não ser instalado na própria varanda, mas próximo ao seu acesso, quando a varanda, por razões construtivas, não comportar o ponto de tomada, quando sua área for inferior a 2m<sup>2</sup> ou, ainda, quando sua profundidade for inferior a 0,80m.

Quais estão corretos?

- A) Apenas I.
- B) Apenas II.
- C) Apenas I e IV.
- D) Apenas II e III.
- E) Apenas III e IV.

**QUESTÃO 42** – Do ponto de vista geométrico, os edifícios compreendem conjuntos de planos horizontais em intersecção com um conjunto de planos verticais, que formam os espaços aos quais se agregam as instalações, de acordo com Mascaró (2010). Acerca disso, assinale a afirmação INCORRETA.

- A) Os planos verticais custam quase a metade de todo o edifício (cerca de 44,84%).
- B) Os planos horizontais custam quase a metade dos planos verticais (26,79%).
- C) As instalações custam quase o mesmo que os planos horizontais (24,33%).
- D) Os planos verticais e horizontais que envolvem o edifício são mais caros que os equivalentes internos.
- E) A redução da superfície construída representa a redução equivalente no custo total da construção.

**QUESTÃO 43** – Problemas relativos a caixilhos são identificados nos casos típicos de patologia da construção, de acordo com Thomaz (2001). Assinale a alternativa INCORRETA sobre as falhas mais comuns, do ponto de vista da execução de obras e da instalação dos caixilhos.

- A) Uso de argamassa de revestimento de paredes com material silto-argiloso, que origina fissuras e retrações, facilitando a infiltração de umidade e o empoçamento de água junto ao caixilho.
- B) Destacamentos/ frestas nos encontros de paredes com marcos de portas e janelas, facultando a penetração de água para o interior da construção.
- C) Emprego de ferragens com qualidade muito deficiente (fechaduras, dobradiças, cremonas), originando uma série de defeitos funcionais, emperramentos e corrosão.
- D) Folga insuficiente entre caixilhos e placas de vidro, com introdução de tensões de origem térmica e conseqüente fissuração ou ruptura das placas de vidro.
- E) Aplicação de pintura em caixilhos de ferro, sem a necessária preparação com fundo anticorrosivo, originando processos de corrosão nos referidos caixilhos.

**QUESTÃO 44** – Avalie os seguintes aspectos em relação a pisos:

- I. Irregularidades geométricas (empoçamentos, caimentos invertidos).
- II. Pisos muito rústicos ou muito escorregadios.
- III. Fissuras de retração em pisos cimentados.
- IV. Infiltração de água nos encontros com paredes.

Quais correspondem aos problemas mais frequentes de patologia da construção em relação a pisos?

- A) Apenas III.
- B) Apenas I e III.
- C) Apenas II e III.
- D) Apenas I, II e IV.
- E) I, II, III e IV.

**QUESTÃO 45** – Assinale a etapa, segundo a NBR 13532/1995 (Elaboração de projetos de edificações – atividades técnicas), que se destina à concepção e à representação das informações técnicas provisórias de detalhamento da edificação e de seus elementos, instalações e componentes, necessários ao inter-relacionamento das atividades técnicas de projeto suficientes à elaboração de estimativas aproximadas de custos e de prazos dos serviços de obra implicados.

- A) Estudo de viabilidade (EV).
- B) Estudo preliminar (EP).
- C) Anteprojeto (AP) ou de pré-execução (PR).
- D) Projeto básico (PB).
- E) Projeto para execução (PE).

**QUESTÃO 46** – A concepção arquitetônica da edificação, dos elementos da edificação, das instalações prediais e dos seus componentes construtivos são objetos do projeto de arquitetura, conforme NBR 13532/1995 (Elaboração de projetos de edificações – Arquitetura). Sobre disso, analise os seguintes itens:

- I. Aspectos arquitetônicos de fundações (baldrames, blocos, cortinas, arrimos, estacas e sapatas) e de estruturas (colunas, pilares, vigas, paredes, lajes e muros de arrimo).
- II. Coberturas (telhas, canaletas, calhas, rufos, contra-rufos, terraços e lajes impermeabilizadas) e vedos verticais (paredes, esquadrias, proteções).
- III. Equipamentos para iluminação (aspectos arquitetônicos para ambientes exteriores e interiores relacionados com a especificação dos controles e dos aparelhos de utilização): lâmpadas, luminárias, refletores, projetores, luminárias de emergência e suportes (postes, hastes e pendentes).
- IV. Equipamentos sanitários (aspectos arquitetônicos relacionados com a especificação dos controles e dos aparelhos de utilização), tais como louças (ou similares), metais e filtros de pressão e bebedouros.

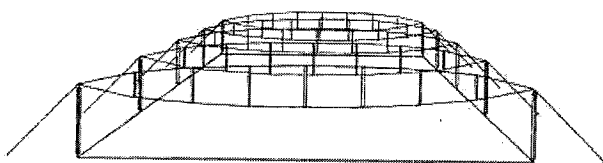
Quais são considerados elementos da edificação e seus componentes construtivos, segundo a referida norma?

- A) Apenas I.
- B) Apenas IV.
- C) Apenas I e II.
- D) Apenas II e III.
- E) Apenas III e IV.

**QUESTÃO 47** – Qual dos sistemas estruturais arquitetônicos corresponde a estruturas que atuam principalmente por meio de composição de elementos em compressão e tração, como sistemas de treliças planas, curvas e espaciais?

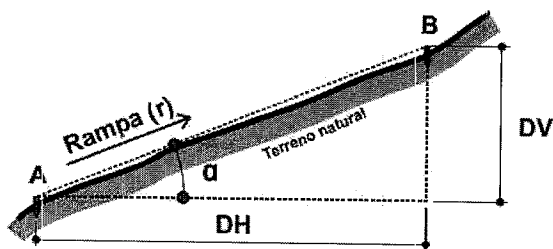
- A) Sistemas estruturais de forma-ativa (ou sistemas estruturais em estado de tração simples).
- B) Sistemas estruturais de vetor-ativo (ou sistemas estruturais com tração e compressão concorrentes).
- C) Sistemas estruturais de massa-ativa (ou sistemas estruturais em estado de flexão).
- D) Sistemas estruturais de superfície-ativa (ou sistemas estruturais em estado de tensão de membrana).
- E) Sistemas estruturais verticais.

**QUESTÃO 48** – Assinale a descrição correta do sistema estrutural arquitetônico representado na figura abaixo.



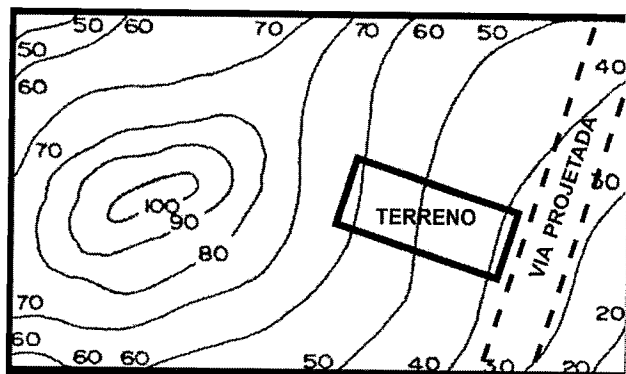
- A) Sistema paralelo espacial com suspensão e estabilização em duas direções.
- B) Sistema protendido com cabos de estabilização transversal.
- C) Sistema paralelo plano com suspensão e estabilização em uma direção.
- D) Sistema de arcos para redes de cabos com curvaturas opostas.
- E) Sistema rotativo plano.

**QUESTÃO 49** – O grau de declividade de um talude, rampa ou plano qualquer é medido através de três variáveis: inclinação do terreno, declividade ou intervalo. De acordo com a figura a seguir, pode-se afirmar que:



- A) A inclinação da rampa ( $r$ ) é dada em graus e corresponde ao ângulo ( $\alpha$ ) que a inclinação do terreno forma com a Distância Vertical (DV).
- B) O ângulo de inclinação ( $\alpha$ ) da rampa ( $r$ ) é calculado através da relação entre a Distância Horizontal (DH) projetada sobre a metragem do intervalo entre os pontos A e B.
- C) O percentual da declividade da rampa ( $r$ ) é calculado através da relação entre a Distância Horizontal (DH) sobre a Distância Vertical (DV).
- D) A declividade da rampa ( $r$ ) é dada em percentual e equivale à Distância Vertical (DV) sobre a Distância Horizontal (DH).
- E) A medida do intervalo entre os pontos A e B é dada em cm, m ou km, correspondendo à Distância Vertical (DV) sobre a Distância Horizontal (DH).

**QUESTÃO 50** – Considerando na figura abaixo que, sobre as curvas de nível, o retângulo destacado represente um lote voltado à via projetada, pode-se afirmar que:



- A) O lote está em uma situação de declive.
- B) O terreno do lote possui um desnível de 30m.
- C) O lote está situado em uma depressão.
- D) O intervalo entre as curvas de nível do terreno é de 20m.
- E) A cota média do lote é de 40m de altitude.

## PROVA DISCURSIVA

De acordo com o subitem 4.5.1 do Edital de Abertura, a Prova Discursiva para os cargos de nível superior destina-se a avaliar a experiência prévia do candidato e sua adequabilidade quanto às atribuições do cargo/área, considerando os conhecimentos específicos apresentados no Anexo II – Programas, contido no referido Edital, e ainda a capacidade de expressão escrita do candidato com a demonstração do domínio correto do padrão culto da Língua Portuguesa e de suas estruturas.

### QUESTÃO – Prevenção contra Incêndio.

A Lei Complementar nº 14.376/2013 estabelece um conjunto de medidas eficientes de prevenção contra incêndio para edificações e áreas de risco de incêndio no Estado do Rio Grande do Sul. Quanto ao tipo de ocupação de edificações, esta lei determina que os locais de reunião de público, cuja descrição se enquadra como clube social e diversão (boates, casas de shows, casas noturnas, clubes em geral, salões de baile, restaurantes dançantes, clubes sociais, bingo, bilhares, tiro ao alvo, boliche e assemelhados), são recintos sujeitos às penalidades inerentes a sua inobservância.

A tragédia que ocorreu em 2013, na cidade de Santa Maria/RS mostrou as consequências de algumas irregularidades, como os três itens citados a seguir:

1. Falta de portas tipo “corta fogo” com capacidade de evacuação de centenas de pessoas para fora do recinto, sob condições de emergência.
2. Falta de ventilação adequada.
3. Uso de materiais inflamáveis, com a liberação de fumaça tóxica, para a cobertura interna do recinto.

Disserte, utilizando no mínimo 20 e no máximo 25 linhas, sobre quais deveriam ter sido as soluções técnicas construtivas do edifício e seus componentes para estes itens, tendo como referência a norma NBR 9077/2001 – Saída de Emergência em Edifícios (desenhos não serão considerados).

Utilize este espaço para fazer seu rascunho.

01  
02  
03  
04  
05  
06  
07  
08  
09  
10  
11  
12  
13  
14  
15  
16  
17  
18  
19  
20  
21  
22  
23  
24  
25

